

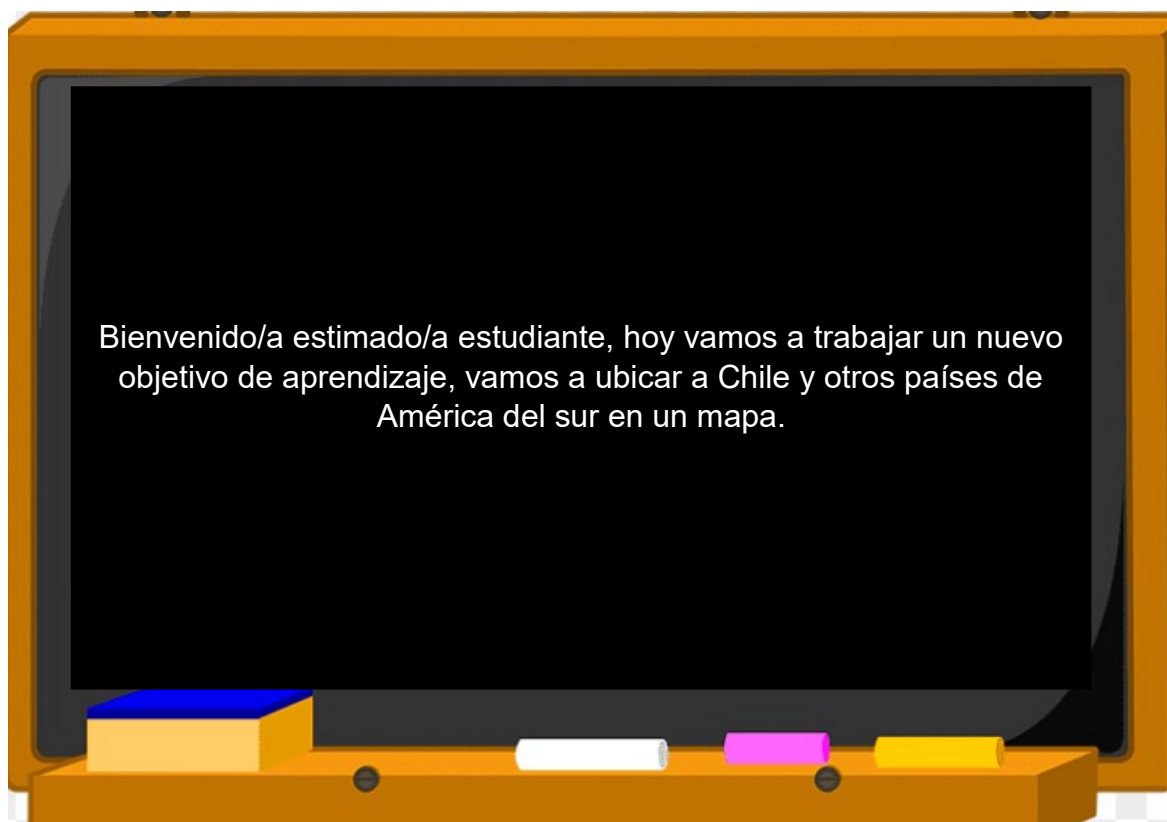


COLEGIO PABLO GARRIDO VARGAS

*Formando líderes sin distinción*

GUÍA DE APRENDIZAJE  
“HISTORIA, GEOGRAFÍA Y CIENCIAS SOCIALES”

NOMBRE:		FECHA: Semana 21 24 al 28 de agosto 2020.	CURSO: Segundo básico A -B
OA 7: Ubicar Chile, Santiago, la propia región y su capital en el globo terráqueo o en mapas	Unidad	Habilidades a desarrollar:	<ul style="list-style-type: none"><li>• Ubicar</li><li>• Distinguir</li><li>• Aplicar</li></ul>
	Trabajar con mapas y conocer nuestro país		
Objetivo de clase: <ul style="list-style-type: none"><li>• Ubicar a Chile y a otros países de América del sur en el mapa y en el globo terráqueo.</li></ul>			
Indicadores de Evaluación: <ul style="list-style-type: none"><li>• Ubican Chile en el planisferio, en el globo terráqueo y en el mapa de América del Sur.</li><li>• Distinguen países de América del Sur en el mapa.</li></ul>			
Instrucciones de la Actividad: <ul style="list-style-type: none"><li>• Leer contenido de la guía atentamente.</li><li>• Escribe fecha y objetivo de la clase en tu cuaderno de Historia, geografía y Cs. Sociales.</li><li>• Escribe la respuesta de cada actividad en tu cuaderno de asignatura.</li><li>• No olvidar que cualquier consulta se debe hacer al correo o vía mensaje WhatsApp</li><li>• Utiliza el video de apoyo que se presenta a continuación.</li><li>• Debes enviar la fotografía del ticket de salida realizado a tu profesora.</li></ul>			
Sitio web recomendado: <a href="https://www.youtube.com/watch?v=UhtNgQKNw8Q">https://www.youtube.com/watch?v=UhtNgQKNw8Q</a>			
Docente: Lorena Troncoso Paula Aliaga	Correo: <a href="mailto:paula.aliaga@colegio-pablogarrido.cl">paula.aliaga@colegio-pablogarrido.cl</a> <a href="mailto:lorena.troncoso@colegiopablogarrido.cl">lorena.troncoso@colegiopablogarrido.cl</a>	Horario de Consultas: 8:30 a 17:00 horas	



1.- Para comenzar te invito a responder de forma oral y comentar la respuesta con algún miembro de tu familia.

1.- ¿Cómo es la forma que tiene Chile?

2.- ¿Qué es un mapa? ¿Para qué sirve?

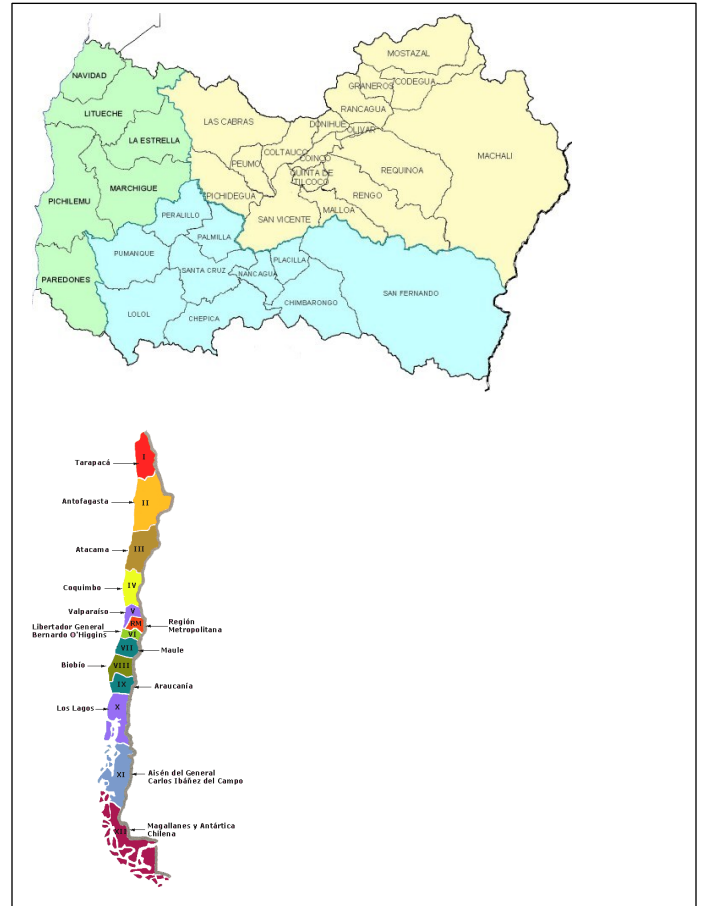
3.- ¿Cuáles son los países vecinos?

4.- ¿En qué continente se ubica?

**Lee con atención....**

Un mapa es una representación mediante un dibujo, de una parte, de la superficie de la Tierra. Como por ejemplo un mapa de una ciudad, de un país o de la Tierra completa.

Observa ejemplos de mapas.



El globo terráqueo es una de las formas más comunes y útiles de representar el planeta Tierra. Representa a escala la forma y la superficie del planeta, así como también los límites políticos de los continentes y de los países que en ellos se encuentran.



II.-Observa el siguiente mapa de América del sur y contesta las siguientes preguntas.



1.- Ubica nuestro país y márcalo con una X.

2.- ¿Cuáles son los países con que limita Chile?

---

---

---

3.- Nombra un país del mapa que te gustaría visitar.

---

II.- Utilizando el mapa y la información anterior para ubicar en el siguiente mapa mudo a Chile y los países con que limita. Pinta según se te indica.


<b>CHILE: Rojo</b> <b>Amarillo</b>	<b>ARGENTINA: Celeste</b>	<b>BOLIVIA: VERDE</b>	<b>PERU:</b>
---------------------------------------	---------------------------	-----------------------	--------------



III.- Pinta a Chile en el globo terráqueo.



IV.- Para finalizar te invito a responder el ticket de salida. UNA VEZ QUE LO CONTESTES; TOMALE UNA FOTOGRAFÍA Y ENVIALO A TU PROFESORA.

TICKET DE SALIDA	
1.- Ubica y pinta a Chile dentro del mapa.	2.- Escribe los países con que limita Chile.
	<hr/> <hr/> <hr/>

