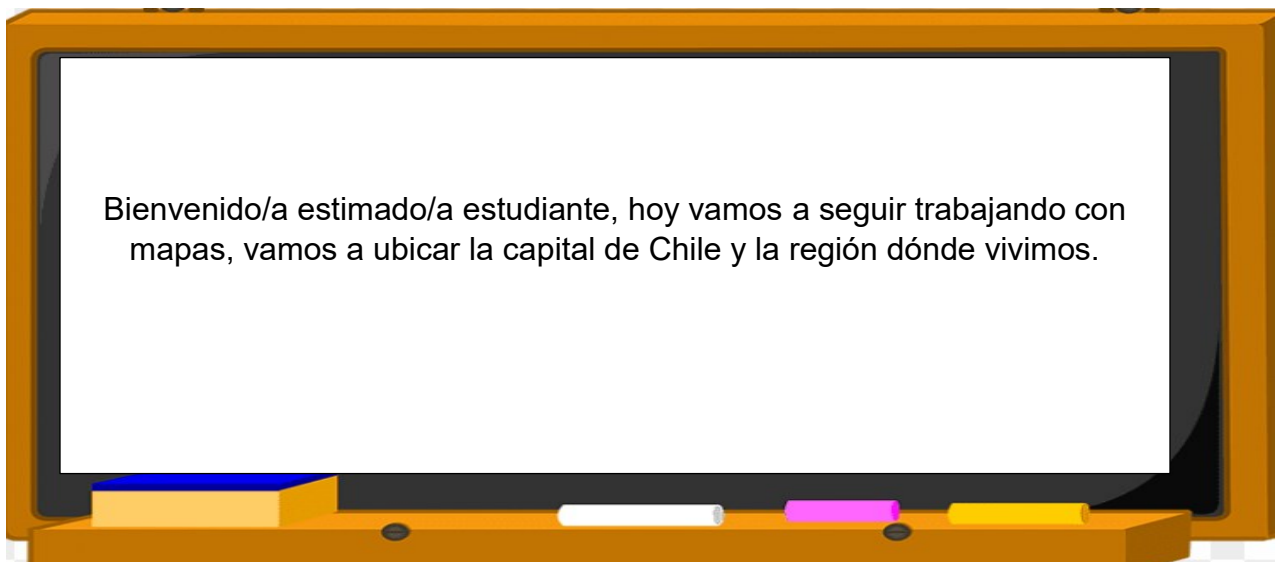




COLEGIO PABLO GARRIDO VARGAS
Formando líderes sin distinción

GUÍA DE APRENDIZAJE
“HISTORIA, GEOGRAFÍA Y CIENCIAS SOCIALES”

NOMBRE:		FECHA: Semana 22 31 de agosto al 04 de septiembre 2020.	CURSO: Segundo básico A -B
OA 7: Ubicar Chile, Santiago, la propia región y su capital en el globo terráqueo o en mapas.	Unidad	Habilidades a desarrollar:	<ul style="list-style-type: none">• Ubicar• Distinguir• Aplicar
	Trabajar con mapas y conocer nuestro país		
Objetivo de clase: <ul style="list-style-type: none">• Ubicar la capital de Chile y la región donde vivimos dentro de un mapa.			
Indicadores de Evaluación: <ul style="list-style-type: none">• Ubican la capital del país en un mapa de Chile.• Distinguen la región donde viven y su capital en un mapa de Chile			
Instrucciones de la Actividad: <ul style="list-style-type: none">• Leer contenido de la guía atentamente.• Escribe fecha y objetivo de la clase en tu cuaderno de Historia, geografía y Cs. Sociales.• Escribe la respuesta de cada actividad en tu cuaderno de asignatura.• No olvidar que cualquier consulta se debe hacer al correo o vía mensaje WhatsApp• Utiliza el video de apoyo que se presenta a continuación.• Debes enviar la fotografía del ticket de salida realizado a tu profesora.			
Sitio web recomendado: https://www.youtube.com/watch?v=VC9tWcviJ8E			
Docente: Lorena Troncoso Paula Aliaga	Correo: paula.aliaga@colegio-pablogarrido.cl lorena.troncoso@colegiopablogarrido.cl	Horario de Consultas: 8:30 a 17:00 horas	



I.- Para comenzar te invito a recordar la clase anterior, para eso contesta en forma oral las siguientes preguntas:

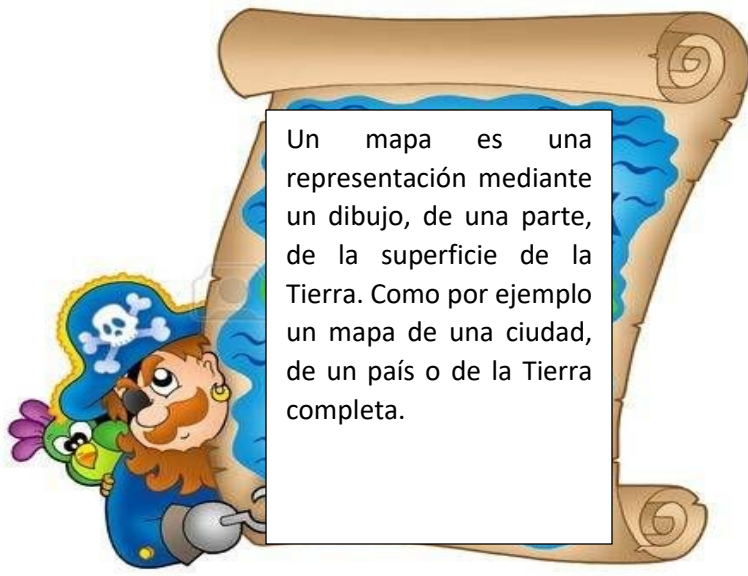
¿Qué es un mapa?

¿Para qué sirve un mapa?

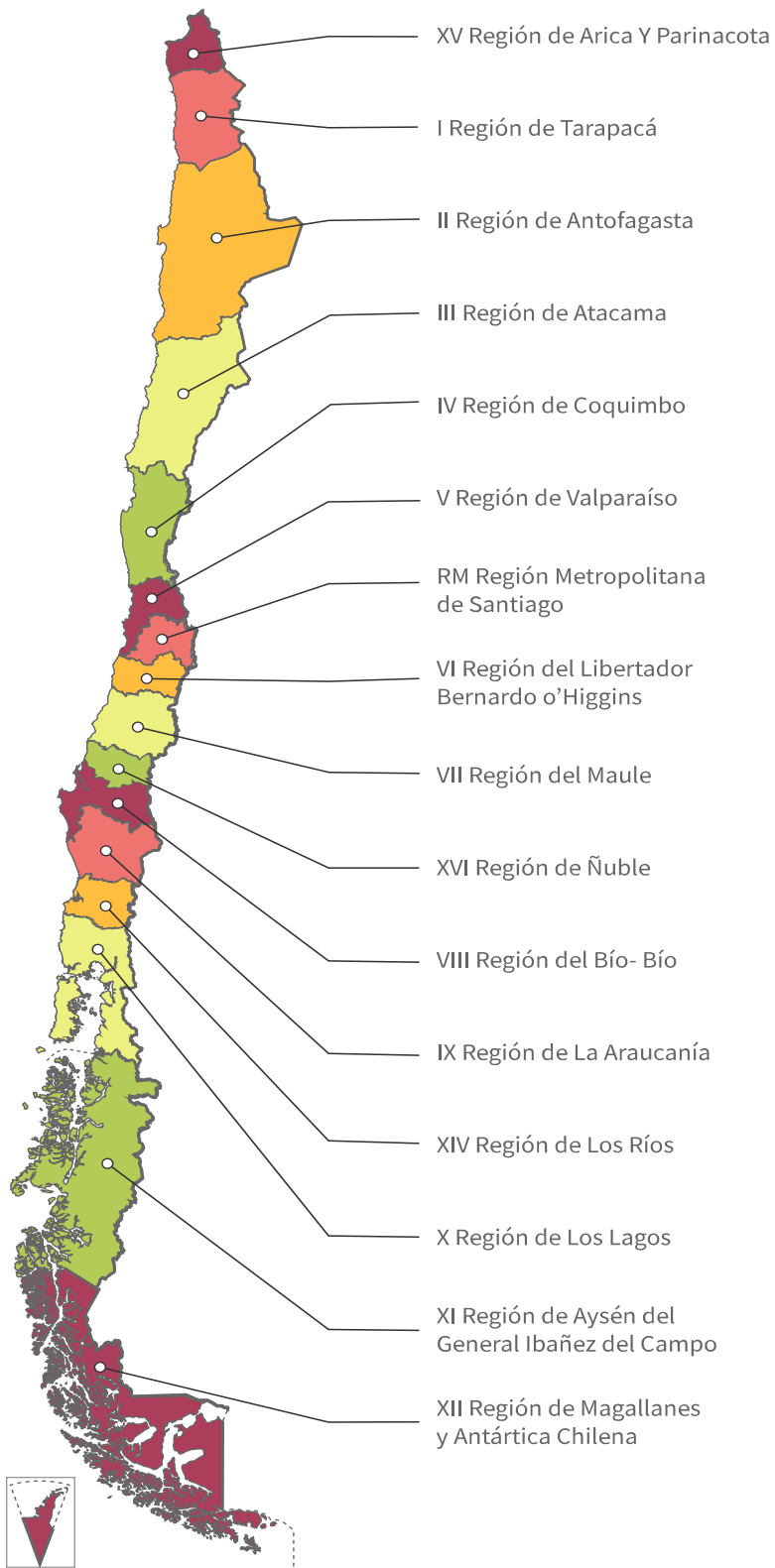
¿Dónde se ubica Chile?

¿Cuáles son los países con que limita?

¡Muy bien!



II.-Observa este mapa de Chile y responde las preguntas.



Nuestro territorio está dividido en 16 regiones, son las que aparecen en el mapa anterior. En la Región metropolitana se encuentra la capital de Chile, Santiago.

La capital de un país es la ciudad donde se encuentra el gobierno, en el caso de Chile, La moneda y el presidente de la República.

También cada una de las 16 regiones tiene una ciudad capital, donde se encuentra la intendencia y el intendente quien es el encargado del gobierno regional.

1.- ¿Qué forma tiene nuestro país?

2.- ¿A qué se refieren esos nombres que aparecen en el mapa?

3.- ¿En qué región se ubica la capital de nuestro país?

4.- ¿En qué región vivimos nosotros?

5.- ¿Cuál es la capital de nuestra Región?

III.- Te invito a trabajar en el mapa de Chile.



- 1.- Marca Santiago, la capital, con un punto rojo y escribe su nombre.
- 2.-Pinta la región donde vives y escribe su nombre.
- 3.- Marca la capital de la región donde vives de color azul y escribe su nombre.

4.- Pinta el resto de Chile con un color claro.

5.- Pinta el Océano Pacífico de color azul y escribe su nombre.

6.- Anota las regiones que limitan con la tuya:

Al norte con _____

AL sur con _____

7.- Anota los países con los cuáles limita Chile _____

IV.- Para finalizar te invito a responder el ticket de salida. UNA VEZ QUE LO CONTESTES; TÓMALE UNA FOTOGRAFÍA Y ENVÍALO A TU PROFESORA.

/// TICKET DE SALIDA ///

- 1.-Pinta de rojo la región donde se encuentra la capital de Chile.
- 2.- Pinta de verde la región donde vives.
- 3.- Escribe el nombre de la capital de la región dónde tu vives.

